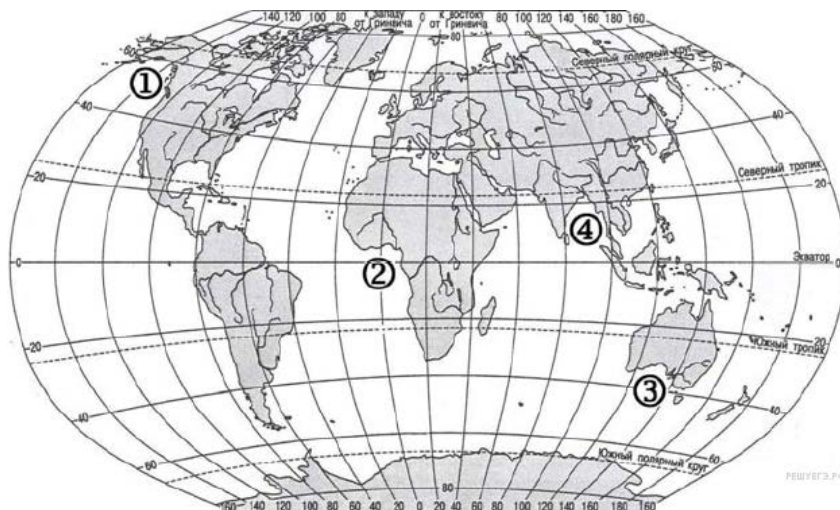




Задание № 7.

1. Установите соответствие между заливом и его расположением на карте, обозначенным цифрой.



ЗАЛИВ

- А) Гвинейский
- Б) Бенгальский
- В) Аляска

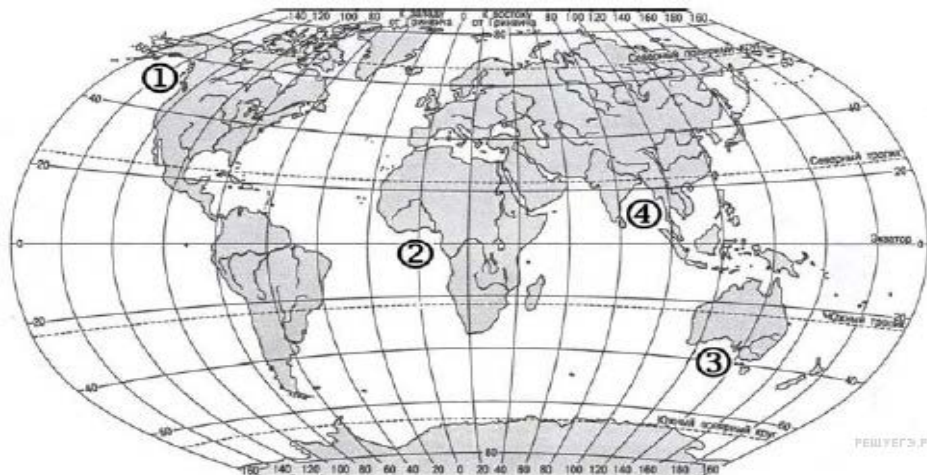
РАСПОЛОЖЕНИЕ НА КАРТЕ

- 1) 1
- 2) 2
- 3) 3
- 4) 4

Запишите в ответ цифры, расположив их в порядке, соответствующем буквам:

А	Б	В

2. Установите соответствие между заливом и его расположением на карте, обозначенным цифрой.



ЗАЛИВ

- А) Большой австралийский
- Б) Аляска
- В) Бенгальский

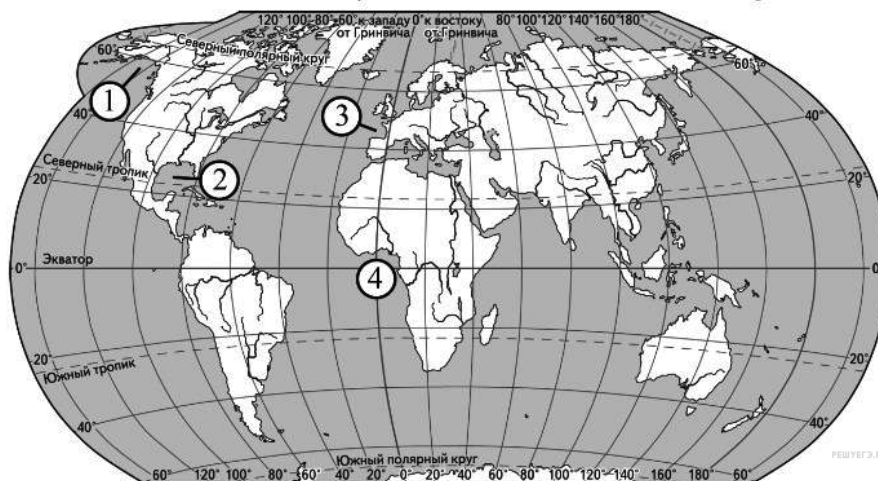
РАСПОЛОЖЕНИЕ НА КАРТЕ

- 1) 1
- 2) 2
- 3) 3
- 4) 4

Запишите в ответ цифры, расположив их в порядке, соответствующем буквам:

А	Б	В

3. Установите соответствие между заливом и его обозначением на карте,



ЗАЛИВ

ОБОЗНАЧЕНИЕ НА КАРТЕ

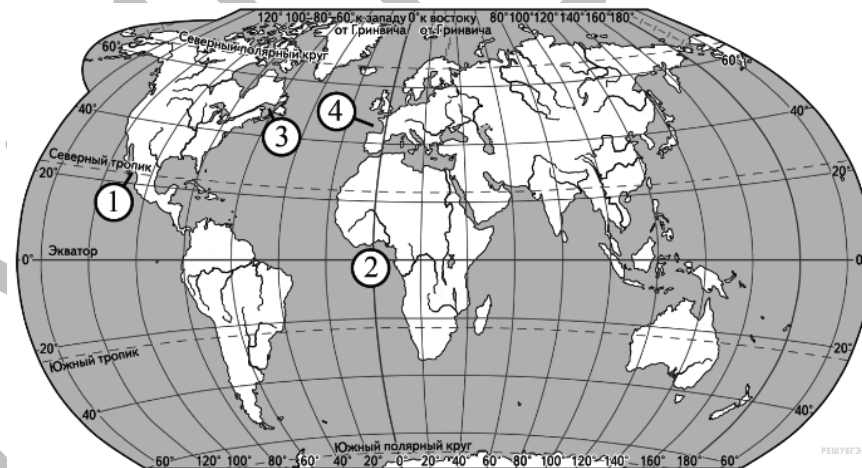
- А) Гвинейский
- Б) Бискайский
- В) Мексиканский

- 1) 1
- 2) 2
- 3) 3
- 4) 4

Запишите в ответ цифры, расположив их в порядке, соответствующем буквам:

А	Б	В

4. Установите соответствие между заливом Мирового океана и его обозначением на карте.



ЗАЛИВ

РАСПОЛОЖЕНИЕ НА КАРТЕ

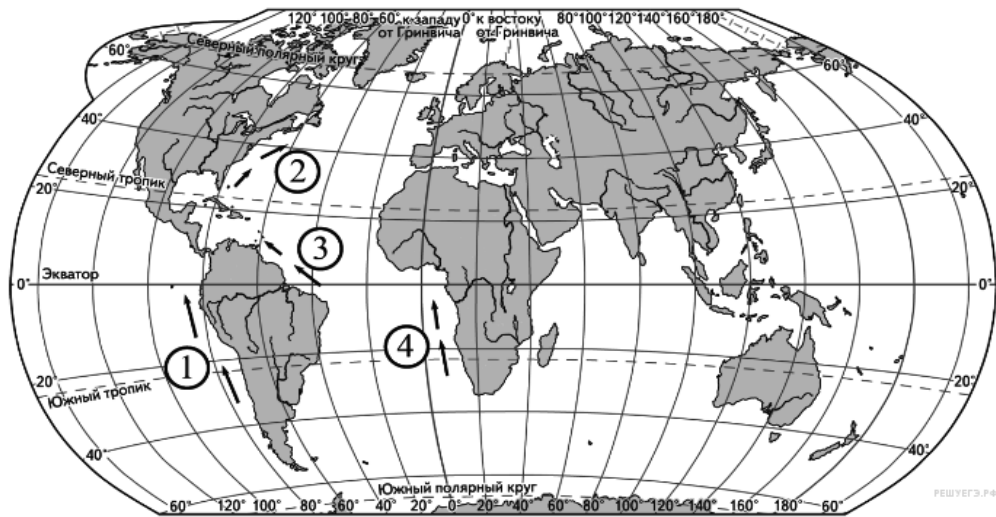
- А) Калифорнийский
- Б) Св. Лаврентия
- В) Бискайский

- 1) 1
- 2) 2
- 3) 3
- 4) 4

Запишите в ответ цифры, расположив их в порядке, соответствующем буквам:

А	Б	В

5. Установите соответствие между океаническим течением и его обозначением на карте.



ТЕЧЕНИЕ

ОБОЗНАЧЕНИЕ НА КАРТЕ

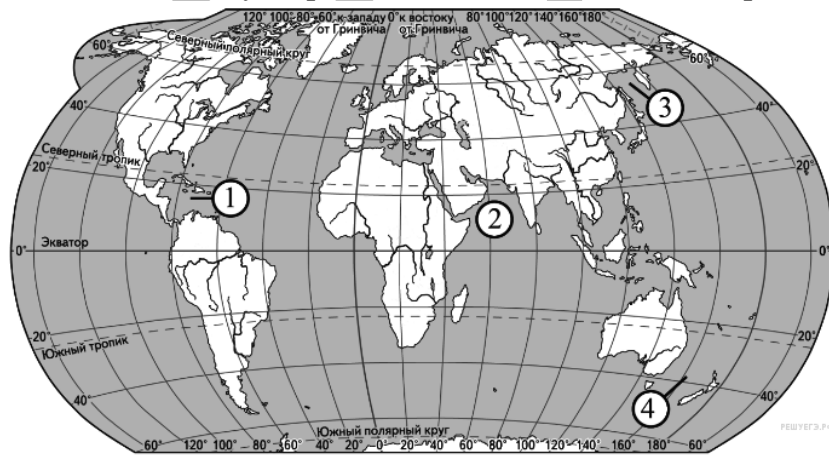
- А) Гольфстрим
- Б) Перуанское
- В) Гвианское

- 1) 1
- 2) 2
- 3) 3
- 4) 4

Запишите в ответ цифры, расположив их в порядке, соответствующем буквам:

А	Б	В

6. Установите соответствие между морем и его обозначением на карте.



МОРЕ

ОБОЗНАЧЕНИЕ НА КАРТЕ

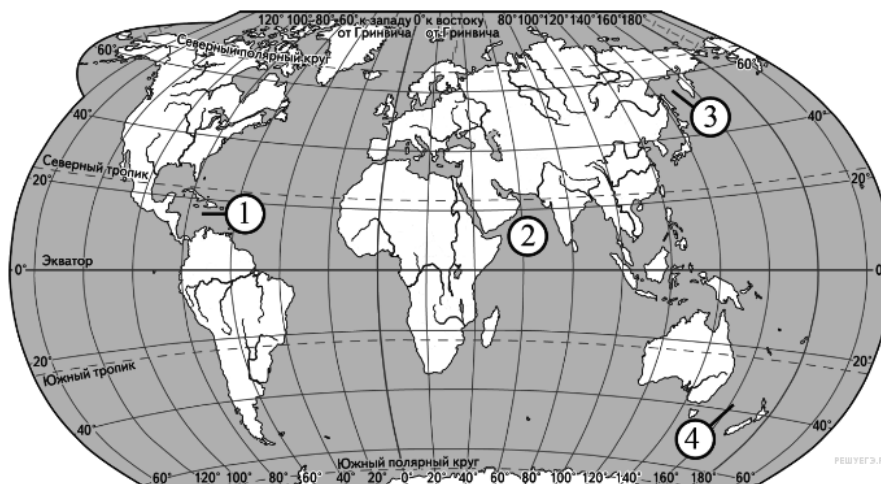
- А) Карибское
- Б) Охотское
- В) Тасманово

- 1) 1
- 2) 2
- 3) 3
- 4) 4

Запишите в ответ цифры, расположив их в порядке, соответствующем буквам:

А	Б	В

7. Установите соответствие между морем и его обозначением на карте,



МОРЕ

ОБОЗНАЧЕНИЕ НА КАРТЕ

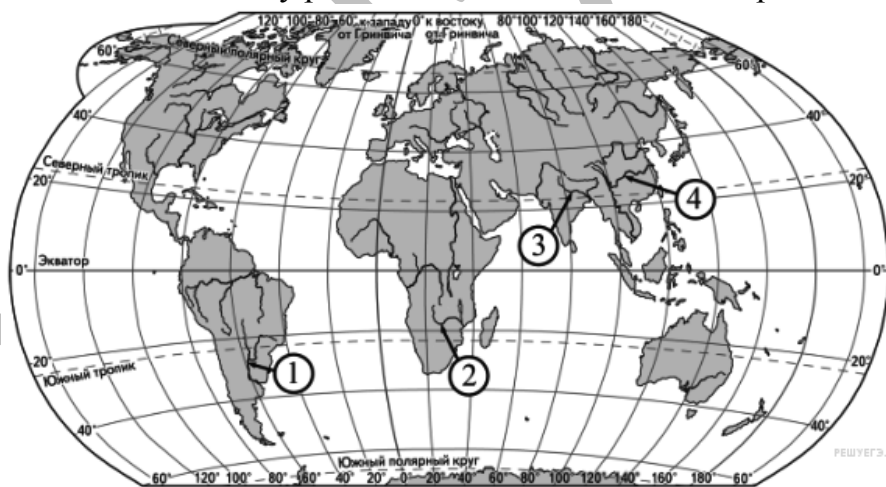
- А) Тасманово
- Б) Аравийское
- В) Охотское

- 1) 1
- 2) 2
- 3) 3
- 4) 4

Запишите в ответ цифры, расположив их в порядке, соответствующем буквам:

А	Б	В

8. Установите соответствие между рекой и её обозначением на карте.



РЕКА

ОБОЗНАЧЕНИЕ НА КАРТЕ

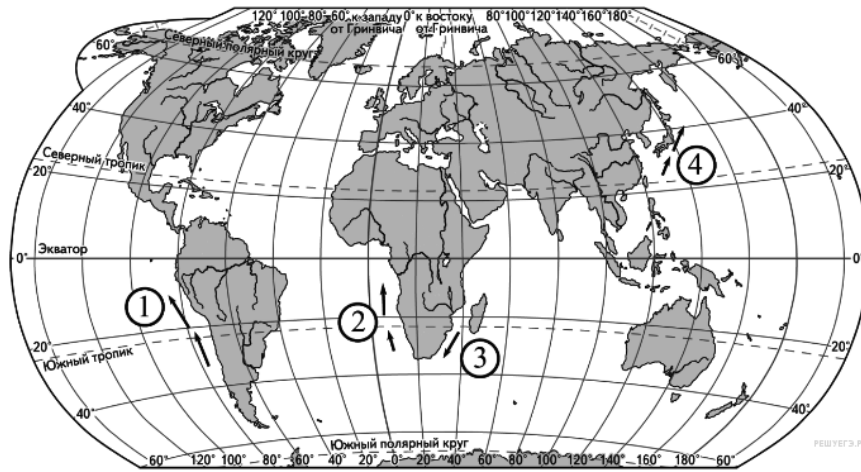
- А) Ганг
- Б) Янцзы
- В) Парана

- 1) 1
- 2) 2
- 3) 3
- 4) 4

Запишите в ответ цифры, расположив их в порядке, соответствующем буквам:

А	Б	В

9. Установите соответствие между океаническим течением и его



ТЕЧЕНИЕ

РАСПОЛОЖЕНИЕ НА КАРТЕ

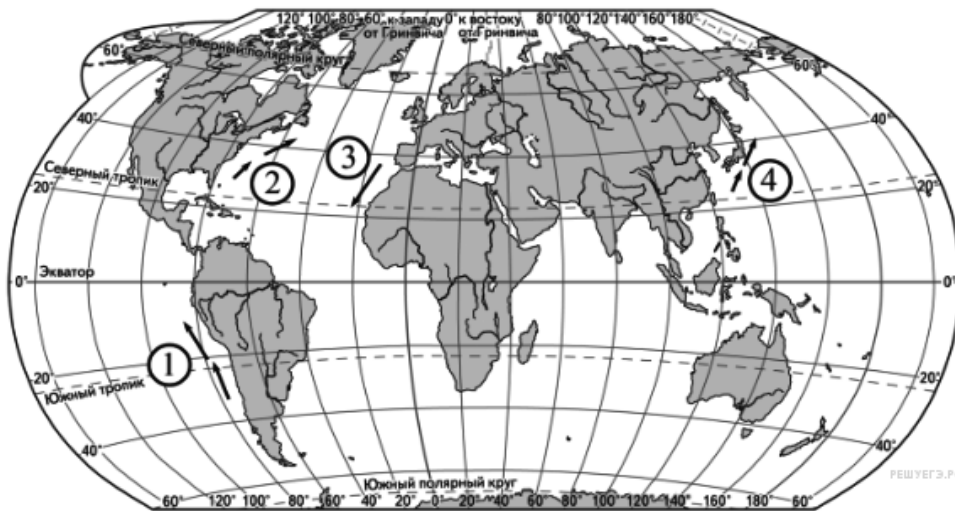
- А) Куроисио
- Б) Бенгельское
- В) Перуанское

- 1) 1
- 2) 2
- 3) 3
- 4) 4

Запишите в ответ цифры, расположив их в порядке, соответствующем буквам:

А	Б	В

10. Установите соответствие между океаническим течением и его обозначением на карте.



ТЕЧЕНИЕ

ОБОЗНАЧЕНИЕ НА КАРТЕ

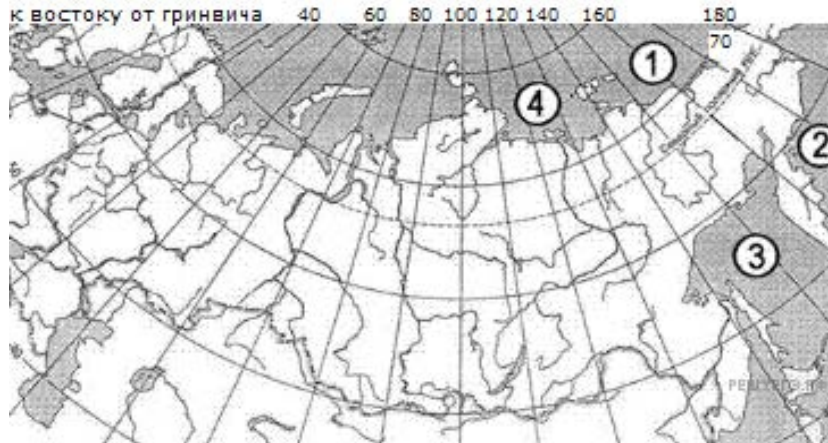
- А) Перуанское
- Б) Гольфстрим
- В) Канарское

- 1) 1
- 2) 2
- 3) 3
- 4) 4

Запишите в ответ цифры, расположив их в порядке, соответствующем буквам:

А	Б	В

11. Установите соответствие между морем и его расположением на карте, обозначенным цифрой: к каждому элементу первого столбца подберите соответствующий элемент из второго и внесите в строку ответов выбранные цифры в правильной последовательности.



МОРЕ

- А) Берингово
- Б) Лаптевых
- В) Охотское

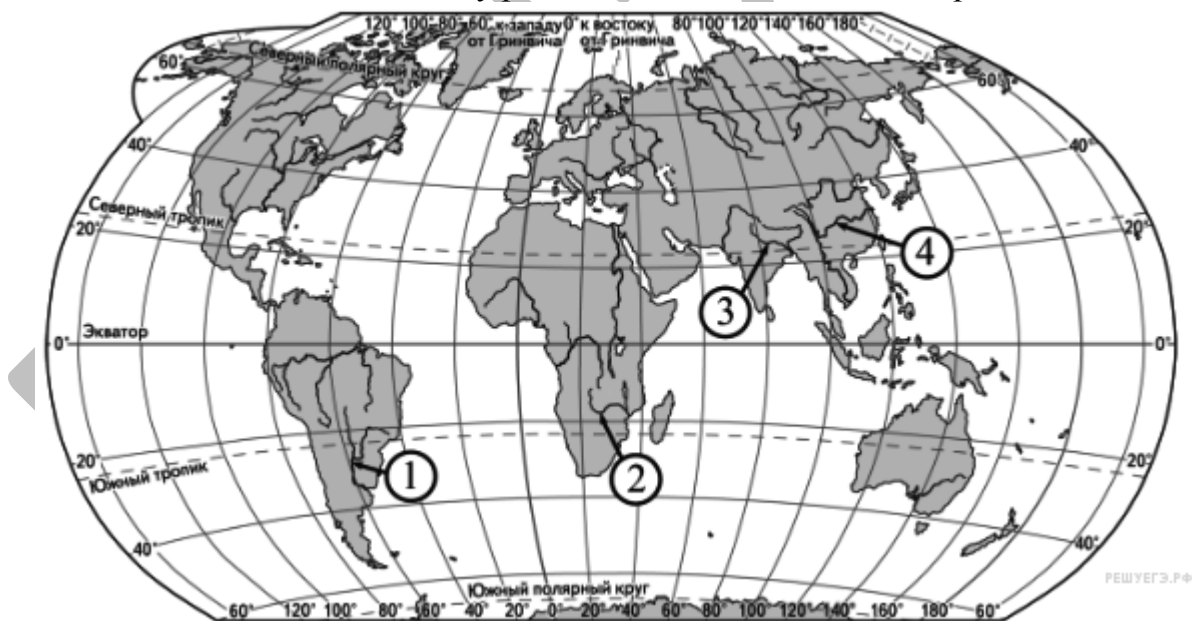
РАСПОЛОЖЕНИЕ НА КАРТЕ

- 1) 1
- 2) 2
- 3) 3
- 4) 4

Запишите в ответ цифры, расположив их в порядке, соответствующем буквам:

А	Б	В

12. Установите соответствие между рекой и её обозначением на карте.



РЕКА

- А) Ганг
- Б) Янцзы
- В) Парана

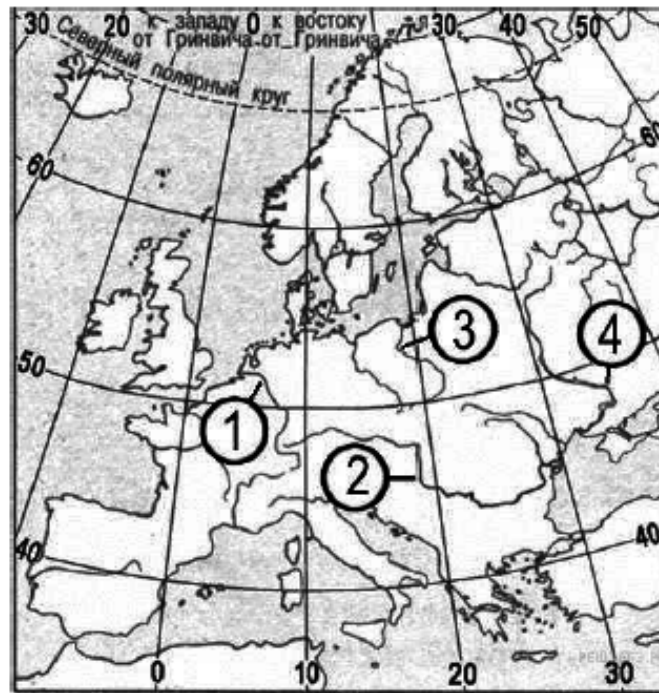
ОБОЗНАЧЕНИЕ НА КАРТЕ

- 1) 1
- 2) 2
- 3) 3
- 4) 4

Запишите в ответ цифры, расположив их в порядке, соответствующем буквам:

А	Б	В

13. Установите соответствие между рекой и её обозначением на карте мира: к каждому элементу первого столбца подберите соответствующий элемент из второго столбца.



РЕКА

- А) Дунай
- Б) Рейн
- В) Днепр

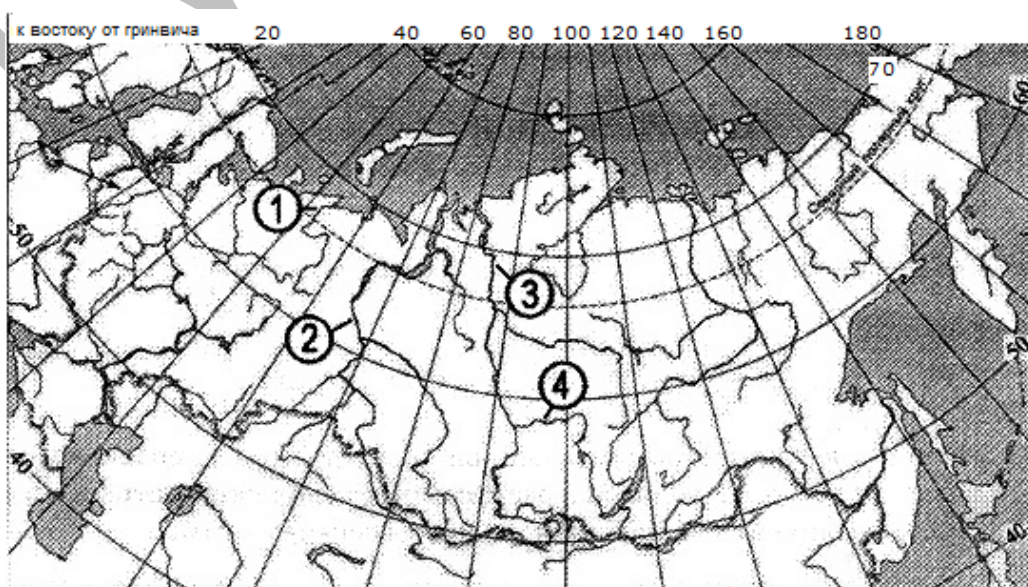
ОБОЗНАЧЕНИЕ НА КАРТЕ

- 1) 1
- 2) 2
- 3) 3
- 4) 4

Запишите в ответ цифры, расположив их в порядке, соответствующем буквам:

А	Б	В

14. Установите соответствие между рекой и её расположением на карте, обозначенным цифрой.



РЕКА

- А) Печора
- Б) Ангара
- В) Обь

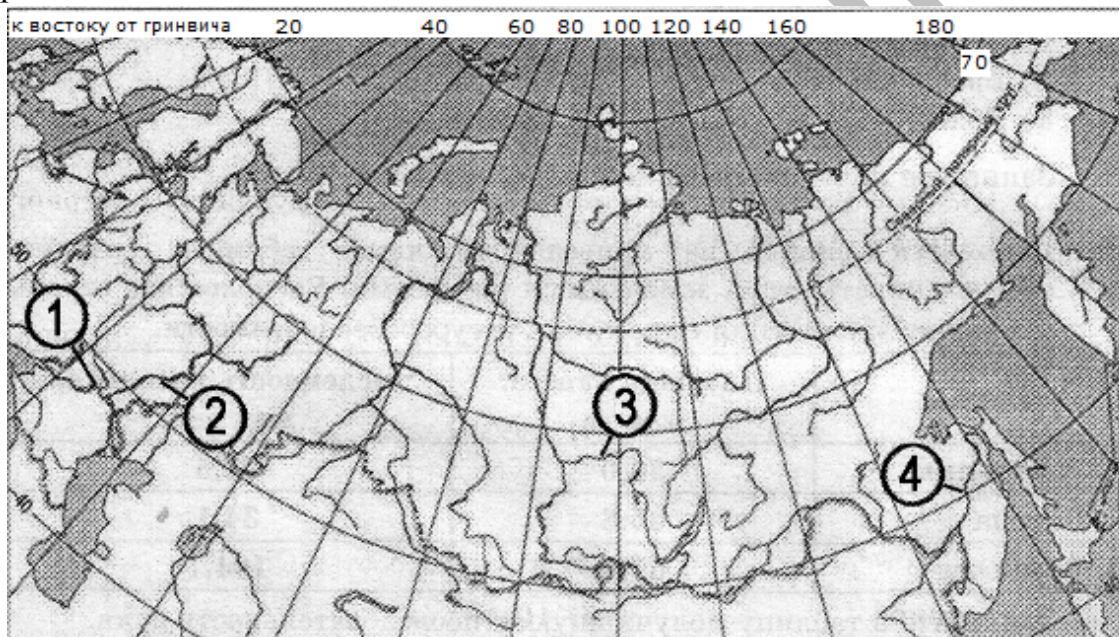
РАСПОЛОЖЕНИЕ НА КАРТЕ

- 1) 1
- 2) 2
- 3) 3
- 4) 4

Запишите в ответ цифры, расположив их в порядке, соответствующем буквам:

А	Б	В

15. Установите соответствие между рекой и её расположением на карте, где она обозначена цифрой.



ЗАЛИВ

- А) Амур
- Б) Волга
- В) Дон

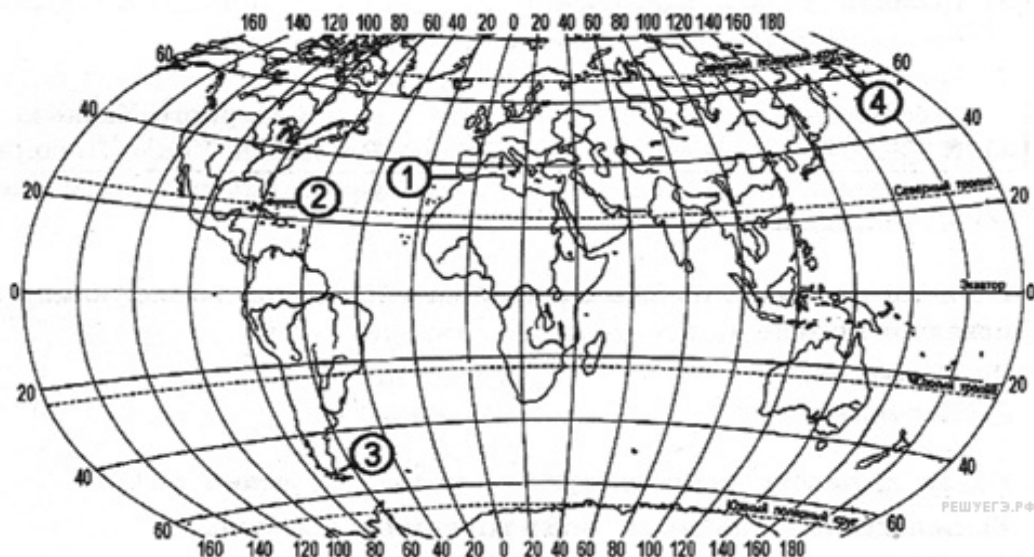
РАСПОЛОЖЕНИЕ НА КАРТЕ

- 1) 1
- 2) 2
- 3) 3
- 4) 4

Запишите в ответ цифры, расположив их в порядке, соответствующем буквам:

А	Б	В

16. Установите соответствие между проливом и его расположением на карте, обозначенным цифрой.



ПРОЛИВ

РАСПОЛОЖЕНИЕ НА КАРТЕ

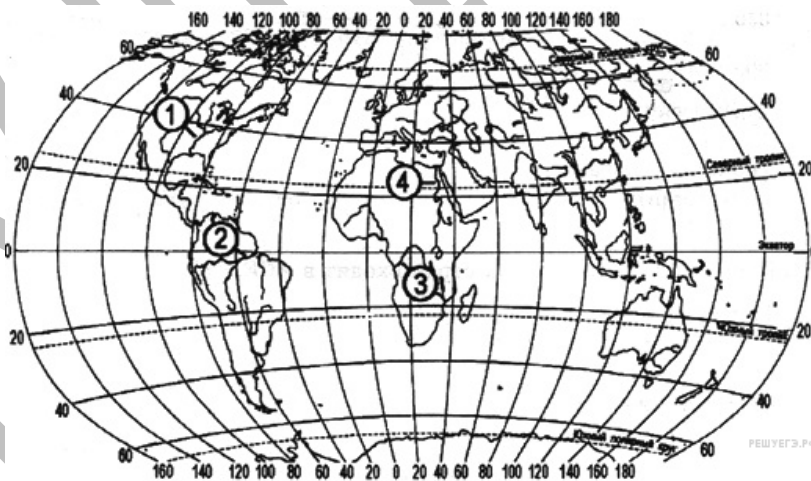
- А) Берингов
- Б) Гибралтарский
- В) Магелланов

- 1) 1
- 2) 2
- 3) 3
- 4) 4

Запишите в ответ цифры, расположив их в порядке, соответствующем буквам:

А	Б	В

17. Установите соответствие между рекой и ее расположением на карте, обозначенным цифрой.



РЕКА

РАСПОЛОЖЕНИЕ НА КАРТЕ

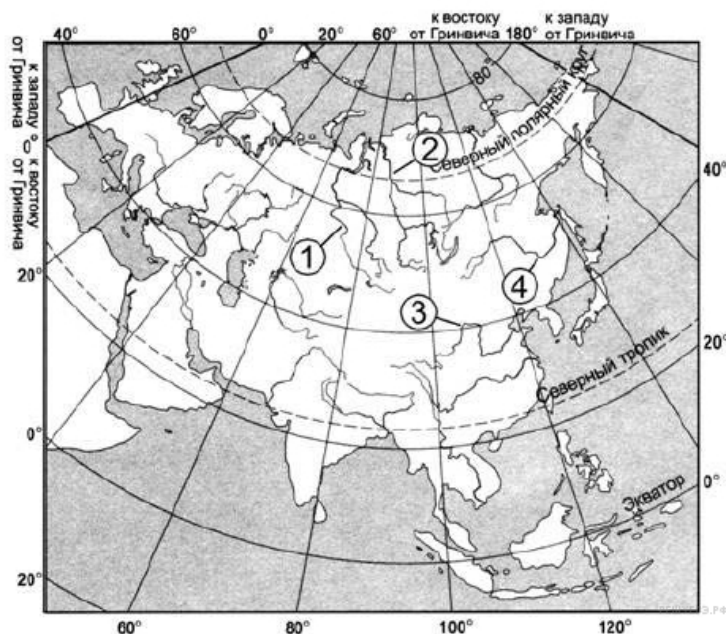
- А) Амазонка
- Б) Миссисипи
- В) Конго

- 1) 1
- 2) 2
- 3) 3
- 4) 4

Запишите в ответ цифры, расположив их в порядке, соответствующем буквам:

А	Б	В

18. Установите соответствие между рекой и цифрой, которой она обозначена на карте. К каждому элементу первого столбца подберите соответствующий элемент из второго и внесите в строку ответов выбранные цифры под соответствующими буквами.



РЕКА

РАСПОЛОЖЕНИЕ НА КАРТЕ

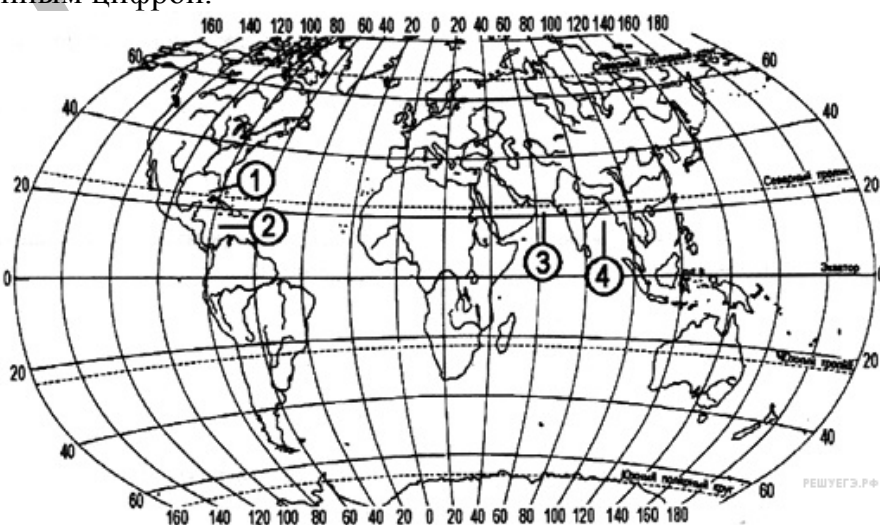
- А) Енисей
- Б) Хуанхэ
- В) Иртыш

- 1) 1
- 2) 2
- 3) 3
- 4) 4

Запишите в ответ цифры, расположив их в порядке, соответствующем буквам:

А	Б	В

19. Установите соответствие между частью Мирового океана и ее расположением на карте, обозначенным цифрой.



ЧАСТЬ МИРОВОГО ОКЕАНА

РАСПОЛОЖЕНИЕ НА КАРТЕ

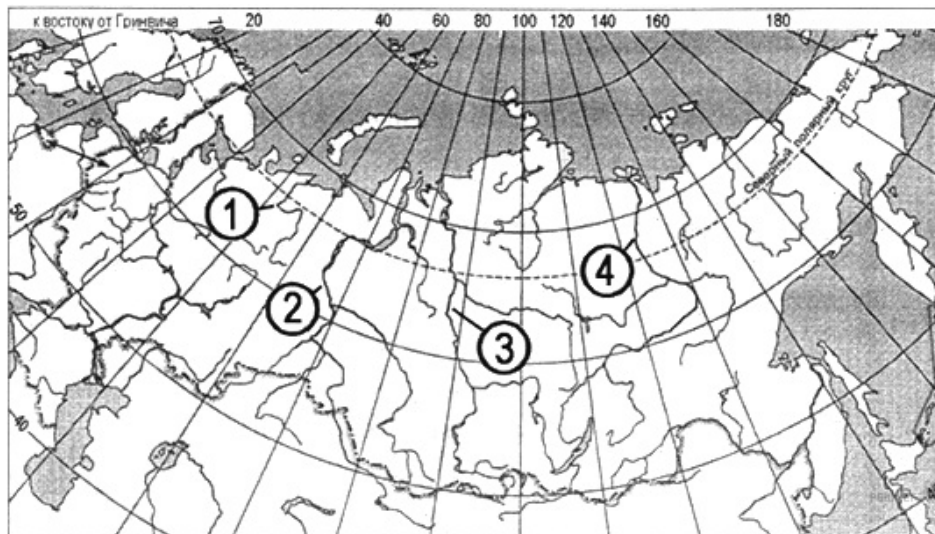
- А) Карибское море
- Б) Бенгальский залив
- В) Мексиканский залив

- 1) 1
- 2) 2
- 3) 3
- 4) 4

Запишите в ответ цифры, расположив их в порядке, соответствующем буквам:

А	Б	В

20. Установите соответствие между рекой и ее расположением на карте, обозначенным цифрой.



РЕКА

РАСПОЛОЖЕНИЕ НА КАРТЕ

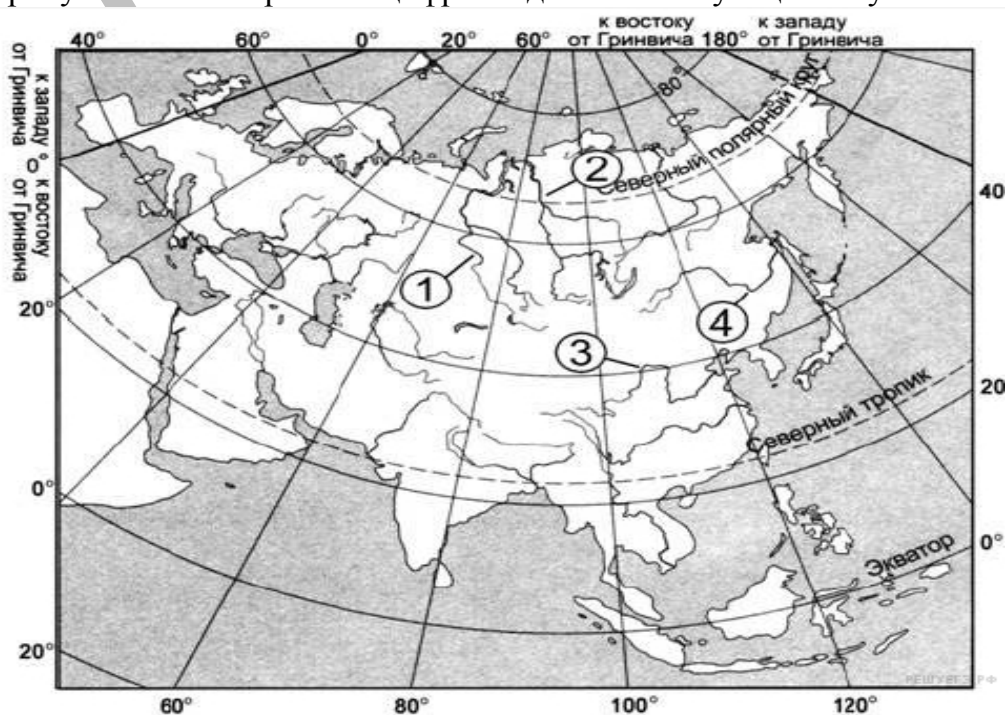
- А) Енисей
- Б) Лена
- В) Печера

- 1) 1
- 2) 2
- 3) 3
- 4) 4

Запишите в ответ цифры, расположив их в порядке, соответствующем буквам:

А	Б	В

21. Установите соответствие между рекой и цифрой, которой она обозначена на карте: к каждому элементу первого столбца подберите соответствующий элемент из второго и внесите в строку ответов выбранные цифры под соответствующими буквами.



РЕКА

- А) Амур
- Б) Обь
- В) Хуанхэ

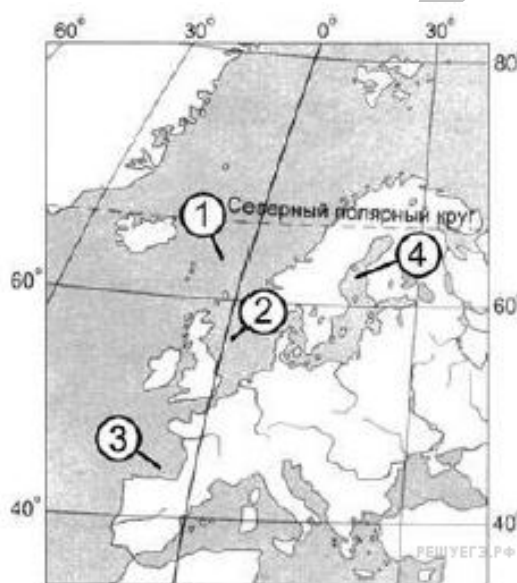
РАСПОЛОЖЕНИЕ НА КАРТЕ

- 1) 1
- 2) 2
- 3) 3
- 4) 4

Запишите в ответ цифры, расположив их в порядке, соответствующем буквам:

А	Б	В

22. Установите соответствие между частью Атлантического океана и цифрой, которой она обозначена на карте: к каждому элементу первого столбца подберите соответствующий элемент из второго и внесите в строку ответов выбранные цифры под соответствующими буквами.



ЧАСТЬ ОКЕАНА

- А) Северное море
- Б) Норвежское море
- В) Ботнический залив

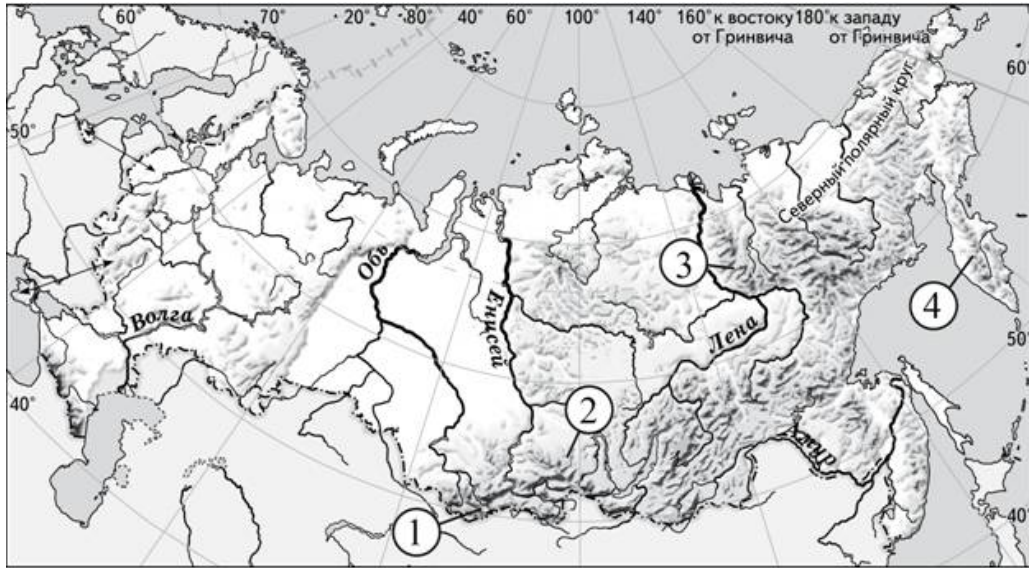
РАСПОЛОЖЕНИЕ НА КАРТЕ

- 1) 1
- 2) 2
- 3) 3
- 4) 4

Запишите в ответ цифры, расположив их в порядке, соответствующем буквам:

А	Б	В

23. Установите соответствие между горной системой и её обозначением на карте России: к каждому элементу первого столбца подберите соответствующий элемент из второго столбца.



ГОРНАЯ СИСТЕМА

- А) Верхоянский хребет
- Б) Алтай
- В) Срединный хребет

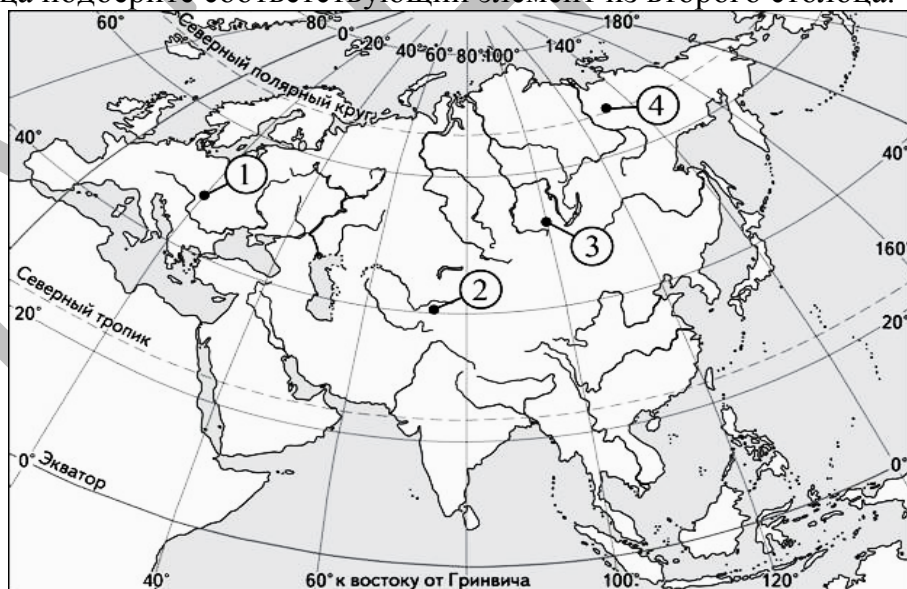
ОБОЗНАЧЕНИЕ НА КАРТЕ

- 1) 1
- 2) 2
- 3) 3
- 4) 4

Запишите в таблицу выбранные цифры под соответствующими буквами.

А	Б	В

24. Установите соответствие между горной системой и обозначением на карте Евразии горной вершины, находящейся в пределах этой горной системы: к каждому элементу первого столбца подберите соответствующий элемент из второго столбца.



ГОРНАЯ СИСТЕМА

- А) Карпаты
- Б) Восточный Саян
- В) Памир

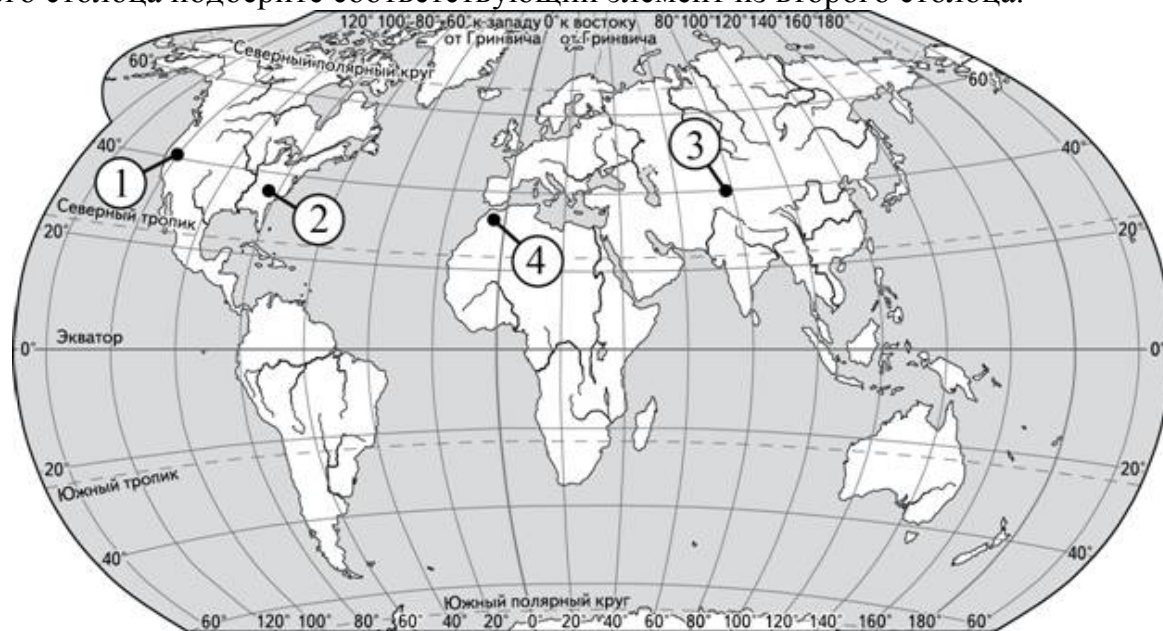
ОБОЗНАЧЕНИЕ ГОРНОЙ ВЕРШИНЫ

- 1) 1
- 2) 2
- 3) 3
- 4) 4

Запишите в таблицу выбранные цифры под соответствующими буквами.

А	Б	В

25. Установите соответствие между горной системой и обозначением на карте мира горной вершины, находящейся в пределах этой горной системы: к каждому элементу первого столбца подберите соответствующий элемент из второго столбца.



ГОРНАЯ СИСТЕМА

- А) Кордильеры
- Б) Атлас
- В) Аппалачи

ОБОЗНАЧЕНИЕ ГОРНОЙ ВЕРШИНЫ

- 1
- 2
- 3
- 4

Запишите в таблицу выбранные цифры под соответствующими буквами.

А	Б	В

26. Установите соответствие между проливом и его обозначением на карте Европы: к каждому элементу первого столбца подберите соответствующий элемент из второго столбца.



ПРОЛИВ

РАСПОЛОЖЕНИЕ НА КАРТЕ

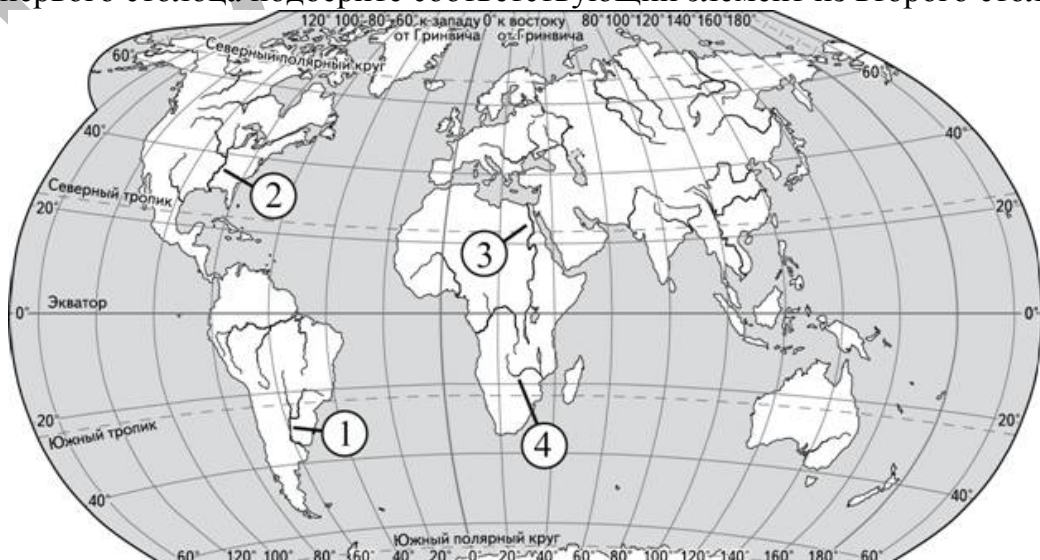
- А) Гибралтарский
- Б) Босфор
- В) Ла-Манш

- 1) 1
- 2) 2
- 3) 3
- 4) 4

Запишите в таблицу выбранные цифры под соответствующими буквами.

А	Б	В

27. Установите соответствие между рекой и её обозначением на карте мира: к каждому элементу первого столбца подберите соответствующий элемент из второго столбца.

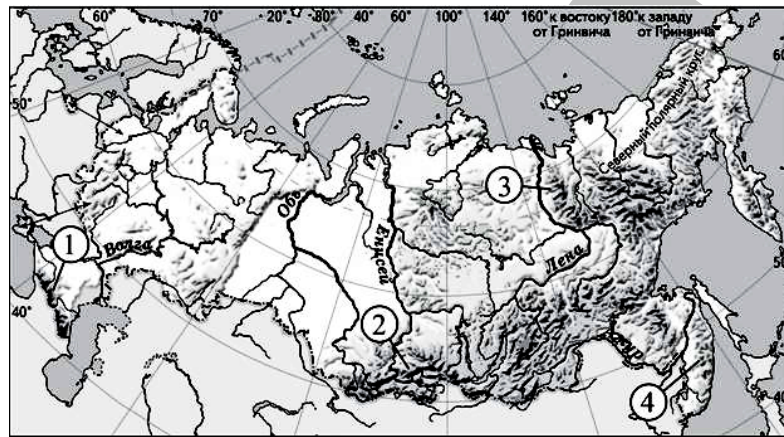


РЕКА	РАСПОЛОЖЕНИЕ НА КАРТЕ
А) Замбези	1) 1
Б) Нил	2) 2
В) Парана	3) 3
	4) 4

Запишите в таблицу выбранные цифры под соответствующими буквами.

А	Б	В

28. Установите соответствие между горной системой и её обозначением на карте России: к каждому элементу первого столбца подберите соответствующий элемент из второго столбца.

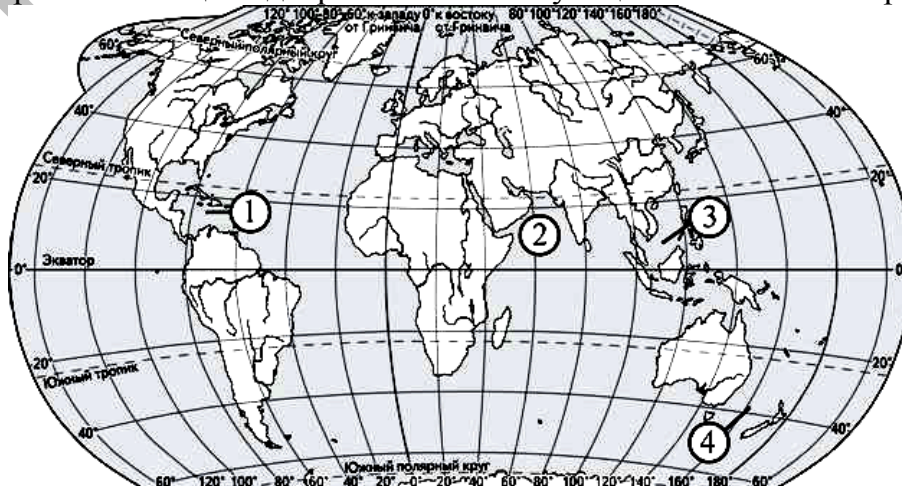


ГОРНАЯ СИСТЕМА	РАСПОЛОЖЕНИЕ НА КАРТЕ
А) Кавказ	1) 1
Б) Западный Саян	2) 2
В) Верхоянский хребет	3) 3
	4) 4

Запишите в таблицу выбранные цифры под соответствующими буквами.

А	Б	В

29. Установите соответствие между морем и его обозначением на карте мира: к каждому элементу первого столбца подберите соответствующий элемент из второго столбца.



МОРЕ

РАСПОЛОЖЕНИЕ НА КАРТЕ

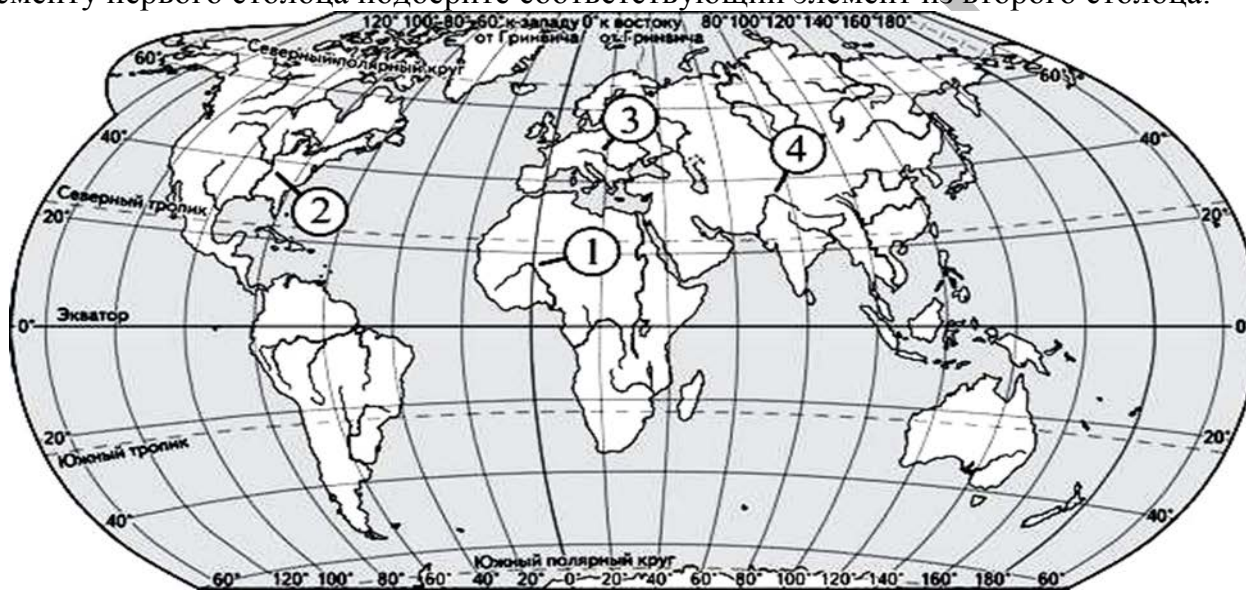
- А) Карибское
- Б) Южно-Китайское
- В) Аравийское

- 1) 1
- 2) 2
- 3) 3
- 4) 4

Запишите в таблицу выбранные цифры под соответствующими буквами.

А	Б	В

30. Установите соответствие между рекой и её обозначением на карте мира: к каждому элементу первого столбца подберите соответствующий элемент из второго столбца.



РЕКА

РАСПОЛОЖЕНИЕ НА КАРТЕ

- А) Миссисипи
- Б) Дунай
- В) Инд

- 1) 1
- 2) 2
- 3) 3
- 4) 4

Запишите в таблицу выбранные цифры под соответствующими буквами.

А	Б	В